

Karta pracy

klasa 2- czerwiec- blok 2- dzień 1

Zadanie 1

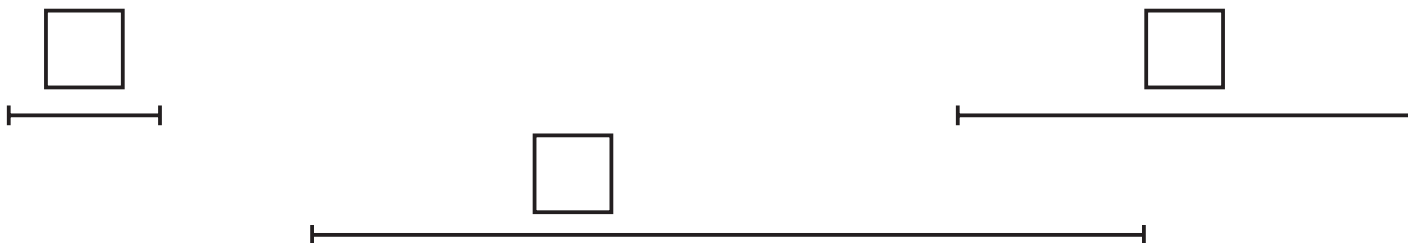
Narysuj odcinki o długości:

AB - 3 cm, CD - 5 cm, EF - 7 cm



Zadanie 2

Zmierz długości odcinków i zapisz ich długość.



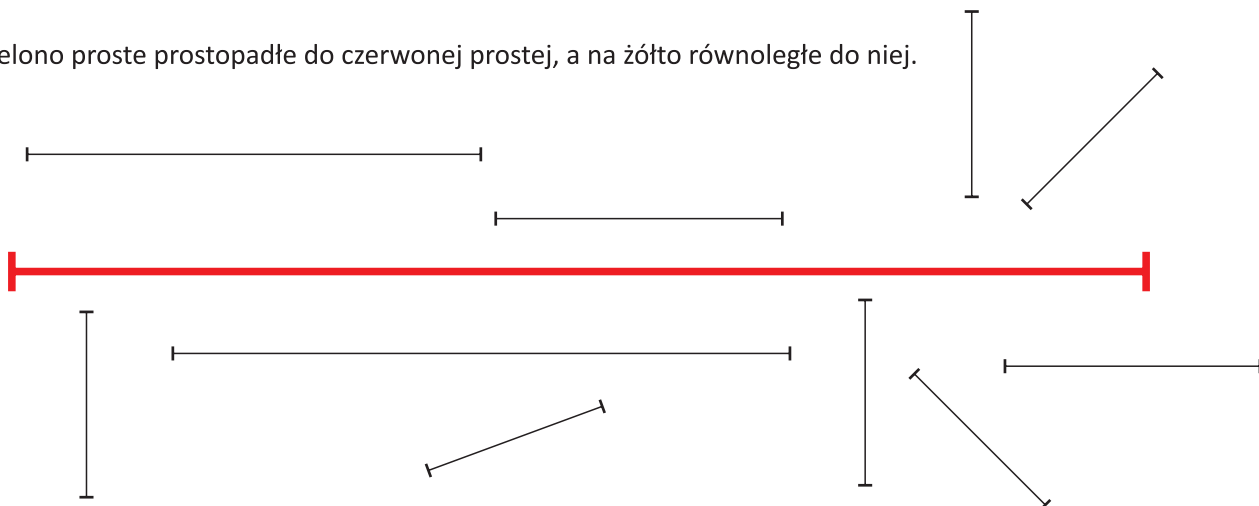
Zadanie 2

W podanych literach zaznacz na niebiesko odcinki równoległe, a na żółto odcinki prostopadłe.

Z F L M T E

Zadanie 3

Pokoloruj na zielono proste prostopadłe do czerwonej prostej, a na żółto równoległe do niej.

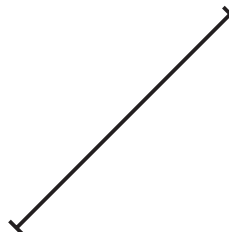


Karta pracy

klasa 2- czerwiec- blok 2- dzień 1

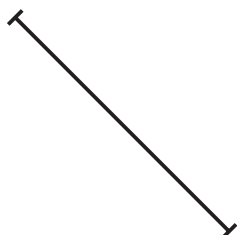
Zadanie 4

Narysuj odcinki prostopadłe do podanych odcinków.




Zadanie 5

Do podanych odcinków narysuj odcinki równoległe.



Zadanie 6

W narysowanej figurze zaznacz:



Karta pracy

klasa 2- czerwiec- blok 2- dzień 1

Zadanko Liczmanka



Rysunek przedstawia położenie szkoły Maćka. Wypisz nazwy ulic równoległych do ulicy Lubelskiej oraz ulice prostopadłe do niej.

Ulice równoległe

Ulice prostopadłe

.....

.....

.....

.....

